



Kaj je narisano?




(A)  $1\frac{1}{2}$



(B)  $1\frac{3}{4}$



(C)  $1\frac{1}{4}$



(Č)  $2\frac{1}{2}$



a) Na kateri sliki je največ lubenice? Č

b) Katera slika predstavlja celo lubenico in tri četrtnine lubenice? B

Zapis ena lubenica in pol lubenice lahko zapišemo krajše kot  $1\frac{1}{2}$  lubenice in preberemo ena cela in ena polovica lubenice.

Kako bi krajše zapisali ena lubenica in tri četrtnine lubenice? Še ob drugih primerih krajše zapiši, koliko lubenice je narisane in jih preberi.  $1\frac{3}{4}$

18. Preberi zapise in jih poveži z ustrezno sliko.

*pet osmin*

$\frac{5}{8}$

$1\frac{1}{3}$

$3\frac{3}{8}$


$1\frac{5}{6}$

*ena cela in ena tretjina pice*

*tri cele in tri osmine pice*

*ena cela in pet šestin pice*


(A)




(B)



(C)



(Č)



19.

Kristina ima tri vrvice. Vsaka je dolga 20 cm. Ena bo razrezala na polovici, eno na četrtnine, eno pa na osmine.



a) Koliko centimetrov je dolga polovica vrvice?  $\frac{1}{2}$  od 20 cm = 10 cm

b) Koliko centimetrov je dolga ena osmina vrvice?  $\frac{1}{8}$  od 20 cm = 2,5 cm

c) Koliko meri  $\frac{5}{8}$  vrvice?  $\frac{5}{8}$  od 20 cm = 12,5 cm

č) Ali  $\frac{2}{4}$  vrvice meri enako kot  $\frac{1}{2}$  vrvice?  $\frac{1}{2} = \frac{2}{4}$

d) Katera vrvica je daljša:  $\frac{1}{8}$  vrvice ali  $\frac{1}{4}$  vrvice. Za koliko centimetrov? Za 2,5 cm,

2,5 cm

5 cm

Pol od 20 cm ni isto kot pol od 20.



## SLJ – Hans Christian Andersen

1. Naloga – Katera pravljica se skriva za prebranim besedilom?	2. Naloga – Katera Andersenova pravljica se skriva za ilustracijo?
<ul style="list-style-type: none"> <li>• Sneguljčica in sedem palčkov</li> <li>• Lonček kuhaj</li> <li>• Rdeča kapica</li> <li>• Mojca Pokrajculja</li> <li>• Volk in sedem kozličkov</li> <li>• Princeska na zrnu graha</li> <li>• Pepelka</li> <li>• Pogumni krojaček</li> </ul>	<ul style="list-style-type: none"> <li>• Hranilnik</li> <li>• Leteči kovček</li> <li>• Grdi raček</li> <li>• Svinjski pastir</li> <li>• Princeska na zrnu graha</li> <li>• Bedak Jurček</li> <li>• Kakor naredi stari, je vselej prav</li> <li>• Cesarjeva nova oblačila</li> <li>• Mala morska deklica</li> </ul>

Prebrala sem Malo morsko deklico.

1. Na podlagi zglada napiši, kako bi mala morska deklica opisala svojim sestram naslednje besede:

<b>vihar</b>	divji ples morske pene
<b>ladja</b>	
<b>ogenj</b>	
<b>jambor</b>	
<b>noge</b>	
<b>veter</b>	

2. Je bilo jutro ali večer, ko je mala morska deklica dvignila glavo iz vode? Poišči in prepisi poved, v kateri to izveš.

---






---



---

## NIT – Kaj je komu hrana; primeri prehranjevalnih verig





**GOS – Nakupovanje in označevanje oblačil**

