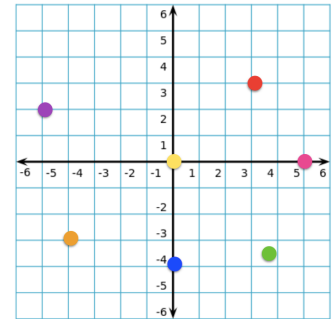


TOČKE V KOORDINATNEM SISTEMU

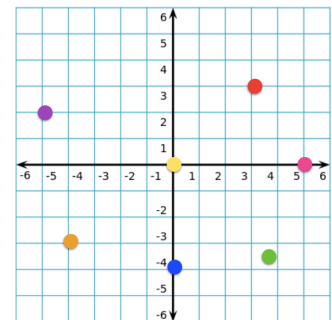
1. Katera točka leži v kvadrantu III?

- (A) rdeča
- (B) zelena
- (C) modra
- (D) roza
- (E) vijoličasta
- (F) oranžna
- (G) rumena



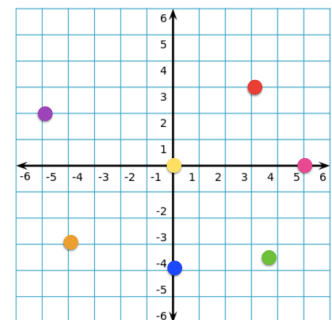
2. Katera točka leži v koordinatnem izhodišču?

- (A) rdeča
- (B) zelena
- (C) modra
- (D) roza
- (E) vijoličasta
- (F) oranžna
- (G) rumena



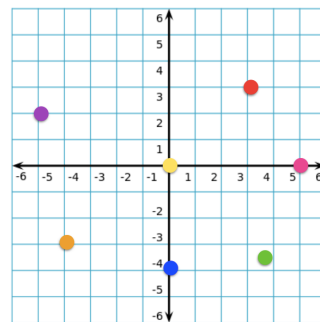
3. Katera točka leži v kvadrantu II?

- (A) rdeča
- (B) zelena
- (C) rumena
- (D) roza
- (E) vijoličasta
- (F) oranžna
- (G) rumena



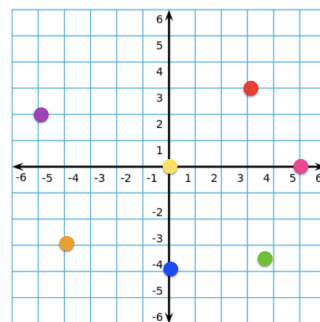
4. Katera točka leži na ordinatni osi ?

- (A) rdeča
- (B) zelena
- (C) modra
- (D) roza
- (E) vijoličasta
- (F) oranžna
- (G) rumena



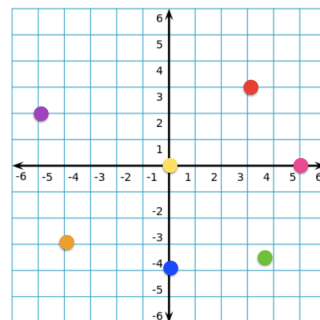
5. Katera točka leži v kvadrantu IV?

- (A) rdeča
- (B) zelena
- (C) modra
- (D) roza
- (E) vijoličasta
- (F) oranžna
- (G) rumena



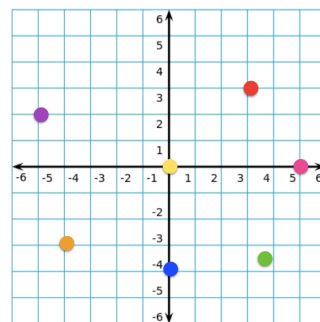
6. Katera točka leži v kvadrantu I?

- (A) rdeča
- (B) zelena
- (C) modra
- (D) roza
- (E) vijoličasta
- (F) oranžna
- (G) rumena



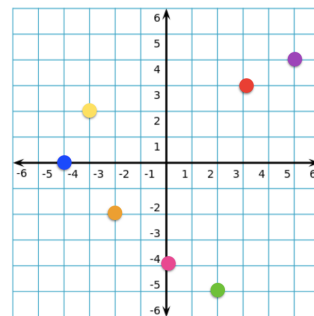
7. Katera točka leži na abscisni osi ?

- (A) rdeča
- (B) zelena
- (C) modra
- (D) roza
- (E) vijoličasta
- (F) oranžna
- (G) rumena



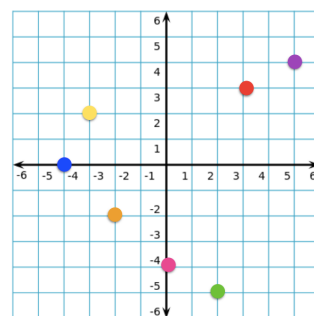
8. Katera točka ima koordinato (3, 3)?

- (A) rdeča
- (B) zelena
- (C) modra
- (D) rumena
- (E) roza
- (F) oranžna
- (G) vijoličasta



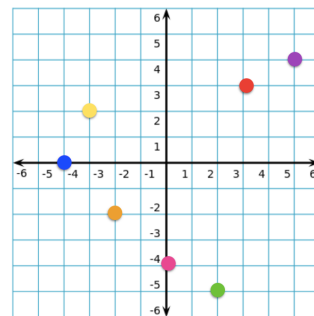
9. Katera točka ima koordinato(-4, 0)?

- (A) rdeča
- (B) zelena
- (C) modra
- (D) rumena
- (E) roza
- (F) oranžna
- (G) vijoličasta



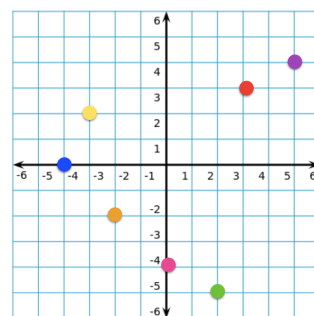
10. Katera točka ima koordinato (2, -5)?

- (A) rdeča
- (B) zelena
- (C) modra
- (D) rumena
- (E) roza
- (F) oranžna
- (G) vijoličasta



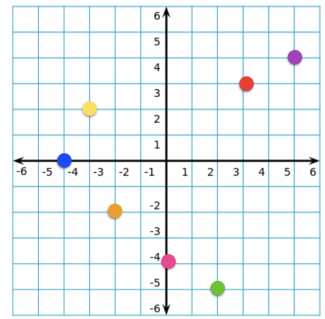
11. Katera točka leži na ordinatni osi in ima koordinato -4?

- (A) rdeča
- (B) zelena
- (C) modra
- (D) rumena
- (E) roza
- (F) oranžna
- (G) vijoličasta



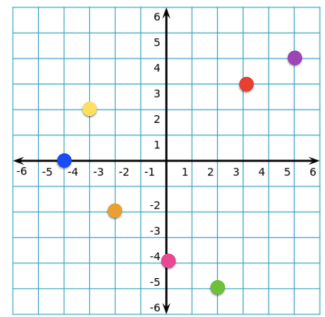
12. Katera točka ima absciso 5 in ordinato 4 ?

- (A) rdeča
- (B) zelena
- (C) modra
- (D) rumena
- (E) roza
- (F) oranžna
- (G) vijoličasta



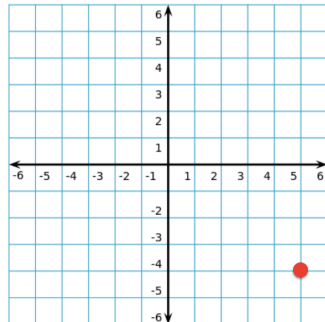
13. Katera točka ima ordinato 2 in absciso -3?

- (A) rdeča
- (B) zelena
- (C) modra
- (D) rumena
- (E) roza
- (F) oranžna
- (G) vijoličasta



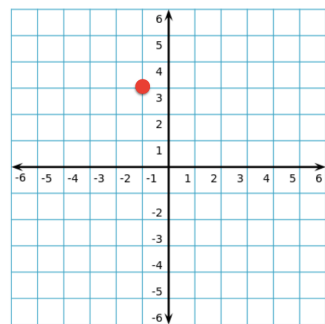
14. Določi koordinate označene točke.

- (A) (-5,4)
- (B) (5,-4)
- (C) (-4,5)
- (D) (4,5)
- (E) (4,-5)



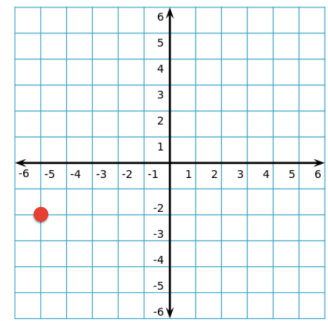
15. Določi koordinate označene točke.

- (A) (3,-1)
- (B) (3,1)
- (C) (-1,-3)
- (D) (1,3)
- (E) (-1,3)



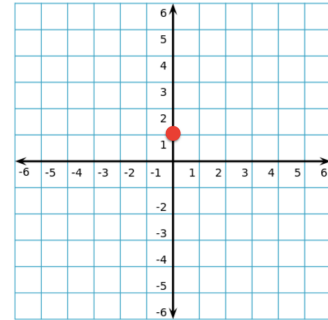
16. Določi koordinate označene točke.

- (A) (5,2)
- (B) (-2,-5)
- (C) (5,-2)
- (D) (-5,-2)
- (E) (2,-5)



17. Določi koordinate označene točke.

- (A) (1,0)
- (B) (0,1)
- (C) (-1,0)
- (D) (0,-1)
- (E) (1,1)



18. V katerem kvadrantu leži točka (4, 8)?

- (A) I
- (B) II
- (C) III
- (D) IV

19. V katerem kvadrantu leži točka (-4, -8)?

- (A) I
- (B) II
- (C) III
- (D) IV

20. V katerem kvadrantu leži točka z absciso 4 in ordinato -8?

- (A) I
- (B) II
- (C) III
- (D) IV

21. Izberi točko, ki ne leži na premici.

(A) (3,-3)

(B) (0,-4)

(C) (-4,0)

(D) (-3,-5)

